













Plantas:

1. Identifica os seres vivos, colocando uma cruz por baixo dos desenhos:

			
Boneco de neve	Plantas	Pedras	Animais

2. Assinala as plantas cultivadas com um C e as espontâneas com um E:

			
Alface	Pereira	Papoilas	Videira

			
Laranjeira	Nenúfares	Azedas	Morangueiros


3. Completa as afirmações com as palavras indicadas:

cultivadas	espontâneas	Homem	sozinhas
------------	-------------	-------	----------

- a) As plantas _____ são aquelas que nascem _____ sem precisarem da ajuda do Homem.
- b) As plantas _____ são aquelas que nascem com a ajuda do _____.

4. Legenda a figura, utilizando as palavras indicadas:

raiz	flor	folha	caule	fruto
------	------	-------	-------	-------



5. Liga corretamente os elementos da coluna A aos elementos da coluna B:

Coluna A
1 – Fixa a planta à terra.
2 – Permite a respiração da planta.
3 – Transporta os alimentos.
4 – Dá origem a uma nova planta.

Coluna B
a) Folha
b) Raiz
c) Fruto
d) Caule

1 - _____ ; 2 - _____ ; 3 - _____ ; 4 - _____.